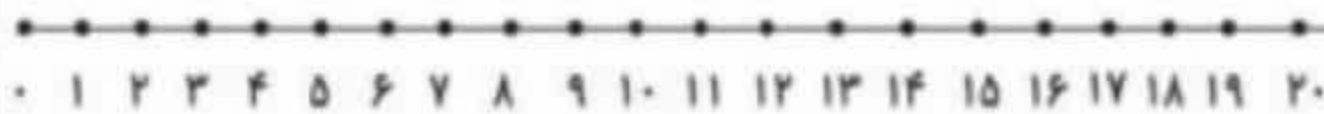



۵- جمع و تفریق های زیر را روی محور نشان بده، سپس جواب آن ها را بنویس.

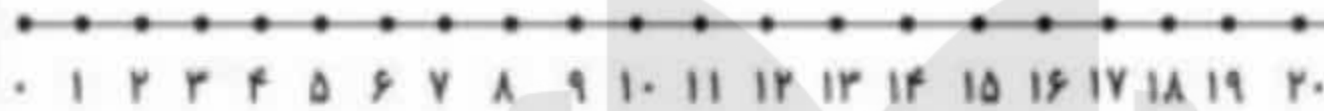


$$۶ + ۵ + ۴ = \text{-----}$$



$$۵ + ۷ + ۴ = \text{-----}$$

@malihe.saneyan




$$۱۷ - ۶ = \text{-----}$$



$$۱۵ - ۹ = \text{-----}$$

۶- ابتدا مربع های شگفت انگیز را کامل کن. سپس پروانه را طوری رنگ بزن که دو طرف آن مثل هم باشد.



۳	۱	۲	۵	۸	۶	۹	۴
	۹		۶	۱		۸	
۵	۸	۶	۴	۹	۱	۷	۲
۶	۵	۹		۴		۸	۳
			۹	۵	۳		
۱	۲	۳		۸		۵	۶
۲	۷	۴	۳		۵	۹	۸
	۳		۲	۴		۵	
۹	۶	۵	۸	۷	۴	۲	۳